

Architetture degli elaboratori

Memoria cache: Esercizi

tratti da *Massimiliano Giacomini*

Esercizio: miss della cache e collocazione dei blocchi nella cache

- Sia data la seguente **sequenza di indirizzi** a cui si intende fare accesso, espressi come indirizzi **di parola**:
1, 4, 8, 5, 33, 66, 32, 56, 9, 11, 4, 43, 88, 6, 32
- Sia data una **cache con blocchi di 4 parole** e una **dimensione** totale di **32 parole**
- Determiniamo se ciascuno degli accessi è un **hit** o un **miss** assumendo che la cache sia inizialmente vuota, nei 3 casi seguenti:
 - 1) cache a corrispondenza diretta
 - 2) cache totalmente associativa, ipotizzando una sostituzione LRU
 - 3) cache set-associativa a 2 vie, ipotizzando una sostituzione LRU
- Assumendo indirizzi a **16 bit**, determiniamo anche il numero di bit riservati all'etichetta (tag), al blocco (o insieme) e alla parola

Calcolo degli indirizzi di blocco

- Gli indirizzi a cui dobbiamo fare accesso sono espressi come indirizzi di parola
- Siccome, in ogni caso, dobbiamo caricare nella cache un blocco di 4 parole, trasformiamo gli **indirizzi di parola** in **indirizzi di blocco**
- Usiamo la seguente equazione

$$\text{indirizzo di blocco} = \left\lfloor \frac{\text{indirizzo di parola}}{\text{ampiezza di un blocco}} \right\rfloor = \left\lfloor \frac{\text{indirizzo di parola}}{4} \right\rfloor$$

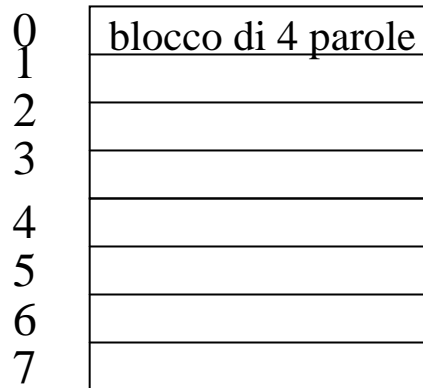
- E quindi troviamo le seguenti corrispondenze

indirizzo di parola	1, 4, 8, 5, 33, 66, 32, 56, 9, 11, 4, 43, 88, 6, 32
	↓ ↓ ↓ ↓ ↓ ↓ ↓ ↓ ↓ ↓ ↓ ↓ ↓ ↓ ↓ ↓
indirizzo di blocco	0, 1, 2, 1, 8, 16, 8, 14, 2, 2, 1, 10, 22, 1, 8


Caso 1: cache a corrispondenza diretta

Indirizzi di blocco 0, 1, 2, 1, 8, 16, 8, 14, 2, 2, 1, 10, 22, 1, 8
 Blocco della cache 0, 1, 2, 1, 0, 0, 0, 6, 2, 2, 1, 2, 6, 1, 0

Cache



Memoria



Un blocco della memoria può andare in un solo blocco della cache

Indirizzo	Etichetta	Blocco	Parola
11	3	2	

Caso 1: cache a corrispondenza diretta

Indirizzi di blocco 0, 1, 2, 1, 8, 16, 8, 14, 2, 2, 1, 10, 22, 1, 8

blocco della cache = (numero blocco memoria) modulo (numero blocchi in cache)

Blocco	1	2	3	4	5	6	7	8
0	mem[0]	mem[0]	mem[0]	mem[0]	mem[8]	mem[16]	mem[8]	mem[8]
1		mem[1]	mem[1]	mem[1]	mem[1]	mem[1]	mem[1]	mem[1]
2			mem[2]	mem[2]	mem[2]	mem[2]	mem[2]	mem[2]
3								
4								
5								
6								mem[14]
7								

miss miss miss hit miss miss miss miss

Caso 1: cache a corrispondenza diretta

Indirizzi di blocco 0, 1, 2, 1, 8, 16, 8, 14, 2, 2, 1, 10, 22, 1, 8

blocco della cache = (numero blocco memoria) modulo (numero blocchi in cache)

Blocco	9	10	11	12	13	14	15
0	mem[8]	mem[8]	mem[8]	mem[8]	mem[8]	mem[8]	mem[8]
1	mem[1]	mem[1]	mem[1]	mem[1]	mem[1]	mem[1]	mem[1]
2	mem[2]	mem[2]	mem[2]	mem[10]	mem[10]	mem[10]	mem[2]
3							
4							
5							
6	mem[14]	mem[14]	mem[14]	mem[14]	mem[22]	mem[22]	mem[22]
7							


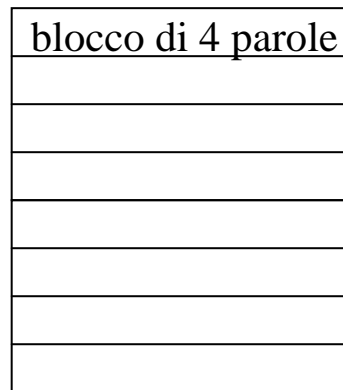
hit hit hit miss miss hit hit

Risultato totale degli accessi alla cache = 9 miss e 6 hit

Caso 2: cache completamente associativa


Indirizzi di blocco 0, 1, 2, 1, 8, 16, 8, 14, 2, 2, 1, 10, 22, 1, 8

Cache



Un blocco della memoria può andare
in qualsiasi blocco della cache

Memoria



Indirizzo	Etichetta	Parola
	14	2

Caso 2: cache completamente associativa

Indirizzi di blocco 0, 1, 2, 1, 8, 16, 8, 14, 2, 2, 1, 10, 22, 1, 8

Blocco	1	2	3	4	5	6	7	8
0	mem[0]	mem[0]	mem[0]	mem[0]	mem[0]	mem[0]	mem[0]	mem[0]
1		mem[1]	mem[1]	mem[1]	mem[1]	mem[1]	mem[1]	mem[1]
2			mem[2]	mem[2]	mem[2]	mem[2]	mem[2]	mem[2]
3					mem[8]	mem[8]	mem[8]	mem[8]
4						mem[16]	mem[16]	mem[16]
5								mem[14]
6								
7								

miss miss miss hit miss miss hit miss

Caso 2: cache completamente associativa

Indirizzi di blocco 0, 1, 2, 1, 8, 16, 8, 14, 2, 2, 1, 10, 22, 1, 8

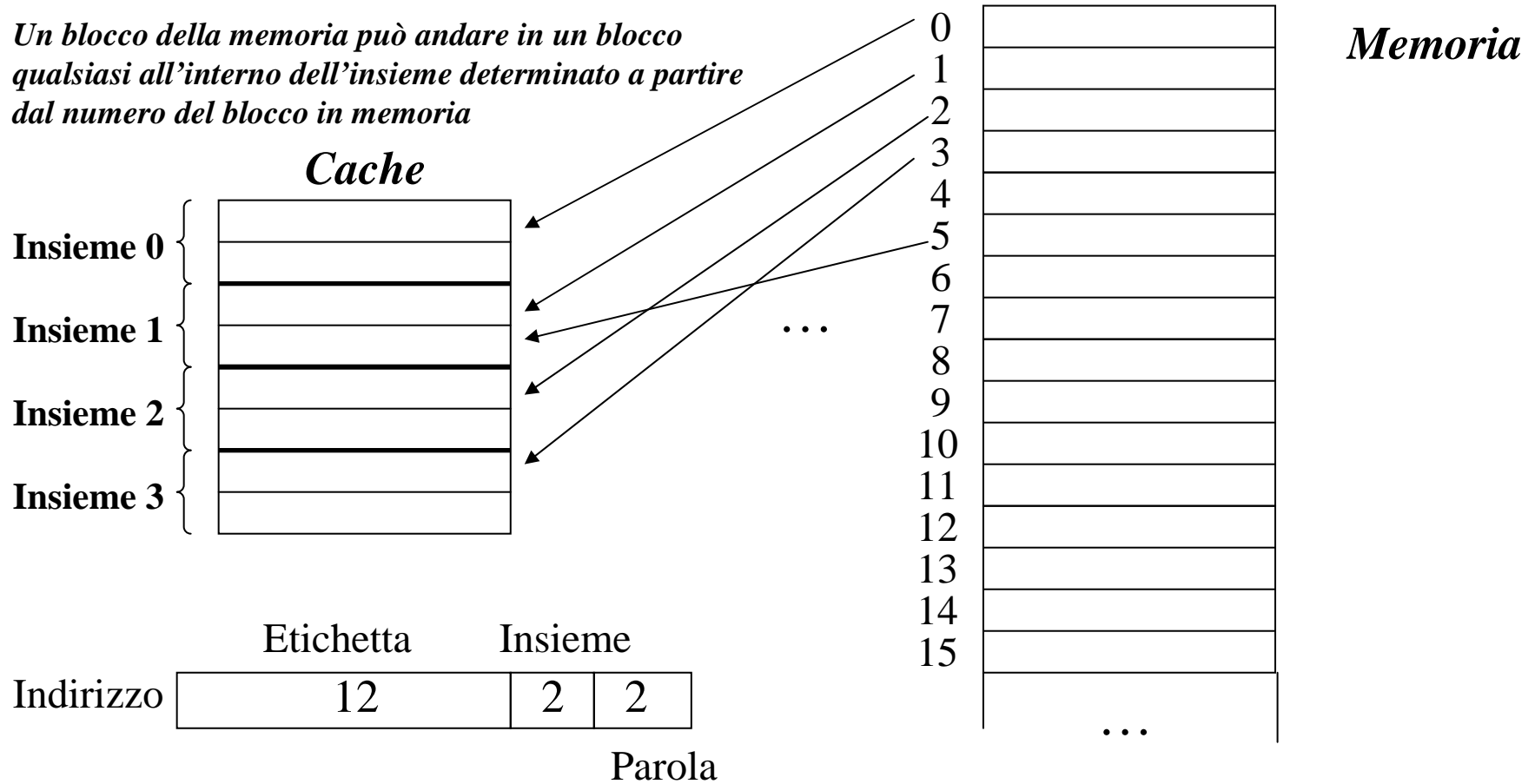
Blocco	9	10	11	12	13	14	15
0	mem[0]	mem[0]	mem[0]	mem[0]	mem[0]	mem[0]	mem[0]
1	mem[1]	mem[1]	mem[1]	mem[1]	mem[1]	mem[1]	mem[1]
2	mem[2]	mem[2]	mem[2]	mem[2]	mem[2]	mem[2]	mem[2]
3	mem[8]	mem[8]	mem[8]	mem[8]	mem[8]	mem[8]	mem[8]
4	mem[16]	mem[16]	mem[16]	mem[16]	mem[16]	mem[16]	mem[16]
5	mem[14]	mem[14]	mem[14]	mem[14]	mem[14]	mem[14]	mem[14]
6				mem[10]	mem[10]	mem[10]	mem[10]
7					mem[22]	mem[22]	mem[22]
	hit	hit	hit	miss	miss	hit	hit

Risultato totale degli accessi alla cache = 8 miss e 7 hit

Caso 3: cache set-associativa a due vie

Indirizzi di blocco 0, 1, 2, 1, 8, 16, 8, 14, 2, 2, 1, 10, 22, 1, 8
 Indirizzi di insieme 0, 1, 2, 1, 0, 0, 0, 2, 2, 2, 1, 2, 2, 1, 0

Un blocco della memoria può andare in un blocco qualsiasi all'interno dell'insieme determinato a partire dal numero del blocco in memoria



Caso 3: cache set-associativa a due vie

Indirizzi di blocco 0, 1, 2, 1, 8, 16, 8, 14, 2, 2, 1, 10, 22, 1, 8

insieme della cache = (numero blocco memoria) modulo (numero insiemi in cache)

Insieme	1	2	3	4	5	6	7	8
0	mem[0]	mem[0]	mem[0]	mem[0]	mem[0]	mem[16]	mem[16]	mem[16]
					mem[8]	mem[8]	mem[8]	mem[8]
1		mem[1]	mem[1]	mem[1]	mem[1]	mem[1]	mem[1]	mem[1]
2			mem[2]	mem[2]	mem[2]	mem[2]	mem[2]	mem[2]
								mem[14]
3								
	miss	miss	miss	hit	miss	miss	hit	miss

Caso 3: cache set-associativa a due vie

Indirizzi di blocco 0, 1, 2, 1, 8, 16, 8, 14, 2, 2, 1, 10, 22, 1, 8

insieme della cache = (numero blocco memoria) modulo (numero insiemi in cache)

Insieme	9	10	11	12	13	14	15
0	mem[16]	mem[16]	mem[16]	mem[16]	mem[16]	mem[16]	mem[16]
	mem[8]	mem[8]	mem[8]	mem[8]	mem[8]	mem[8]	mem[8]
1	mem[1]	mem[1]	mem[1]	mem[1]	mem[1]	mem[1]	mem[1]
2	mem[2]	mem[2]	mem[2]	mem[2]	mem[22]	mem[22]	mem[2]
	mem[14]	mem[14]	mem[14]	mem[10]	mem[10]	mem[10]	mem[10]
3							

hit hit hit miss miss hit hit

Risultato totale degli accessi alla cache = 8 miss e 7 hit

Esercizio 2

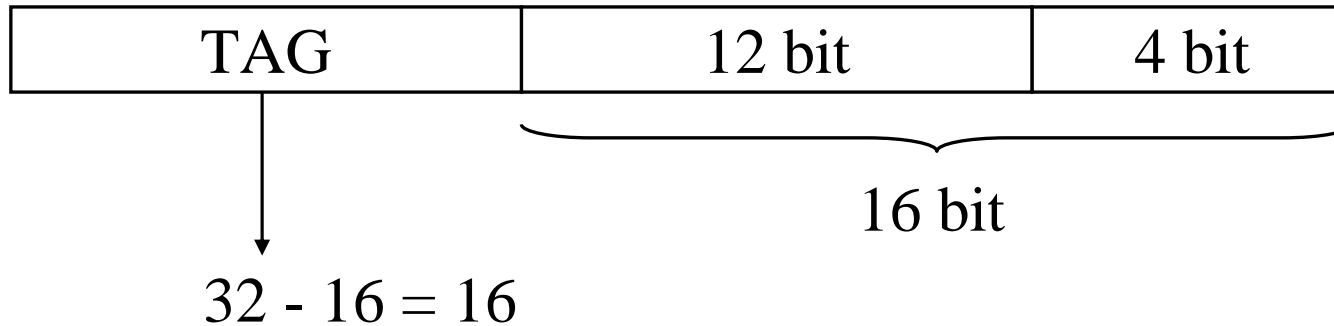
- Sia data una cache con:
 - 4K blocchi
 - ogni blocco ha 4 parole da 16 bit
 - indirizzi di 32 bit
- Trovare il numero totale di bit per i tag nel caso di:
 - cache a corrispondenza diretta
 - cache set associativa a 4 vie
 - cache completamente associativa

Esercizio 2

- Sia data una cache con:
 - 4K blocchi
 - ogni blocco ha 4 parole
 - indirizzi di 32 bit

Corrispondenza diretta:

$$4K = 2^{12} \text{ blocchi}$$



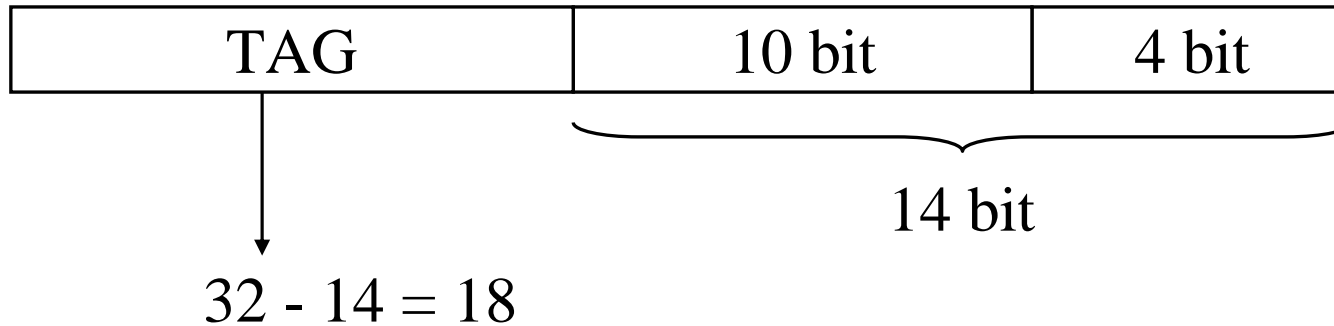
$$\Rightarrow 16 \text{ bit} * 2^{12} = 16 * 4 \text{ kbit} = 64 \text{ kbit}$$

Esercizio 2

- Sia data una cache con:
 - 4K blocchi
 - ogni blocco ha 4 parole
 - indirizzi di 32 bit

Set associativa a 4 vie:

$$4K = 2^{12} \text{ blocchi} \Rightarrow 2^{12}/4 = 2^{10} \text{ insiemi}$$




$$\Rightarrow 18 \text{ bit} * 2^{12} = 18 * 4 \text{ kbit} = 72 \text{ kbit}$$

Esercizio 2

- Sia data una cache con:
 - 4K blocchi
 - ogni blocco ha 4 parole
 - indirizzi di 32 bit

Completamente associativa:

$$4K = 2^{12} \text{ blocchi}$$



↓

$$32 - 4 = 28$$

⇒ $28 \text{ bit} * 2^{12} = 28 * 4 \text{ kbit} = 112 \text{ kbit}$